

Nom : _____

















Date : __/__/__

Exercices d'entraînement

Problèmes additifs et soustractifs



Op. _

<p>(A)  Mona a 42 DVD. Elle en achète 8 nouveaux. Combien en a-t-elle maintenant ?</p>	<p>(B)  Mohamed avait 56 billes. Il en gagne 43. Combien a-t-il de billes maintenant ?</p>
<p>(C)  Un marchand d'œufs va au marché avec 498 œufs. Il en vend 275. Combien en ramènera-t-il ?</p>	<p>(D)  C'était un bois de 257 arbres. La tempête éclate et en arrache 143. Combien d'arbres reste-t-il ?</p>
<p>(E)  Il y avait 79 kg de feuilles d'arbres entassées dans la cour. Le vent en éparpille 14 kg. Quelle est la masse du nouveau tas ?</p>	<p>(F)  Ce matin Pierre avait 421 images. Ce soir il en a 512. Combien en a-t-il achetées ?</p>
<p>(G)  Il y avait 103 enfants à l'école au début de l'année. 14 se sont inscrits après les vacances de Noël. Combien d'enfants y a-t-il maintenant à l'école ?</p>	<p>(H)  La B.C.D. de l'école comptait 4 329 ouvrages. La directrice en achète 356 nouveaux. Quel est le nouveau nombre de livres ?</p>
<p>(I)  J'avais 4 539 timbres dans mon album. Mon parrain me donne le sien qui en contient 21 432. Combien ai-je de timbres maintenant ?</p>	<p>(J)  Une maison de la presse reçoit 1 432 journaux à 4 h puis un deuxième arrivage de 1 320 journaux à 12 h. Combien a-t-elle reçu de journaux en tout ?</p>
<p>(K)  J'ai ajouté 16 fleurs à mon bouquet. Il en compte maintenant 48. Combien avais-je de fleurs avant ?</p>	<p>(L)  Combien pesait au départ l'éléphanteau qui a grossi de 127 kg et qui pèse maintenant 549 kg ?</p>
<p>(M)  Le compteur de ma voiture indique 32 609 km. J'ai parcouru 1 231 km pendant les vacances. Qu'indiquait le compteur avant mon départ en voiture ?</p>	<p>(N)  Dans une raffinerie de pétrole, une citerne contient 230 000 litres d'essence. On charge des camions de 154 000 litres pour qu'ils livrent des stations services. Combien reste-t-il d'essence dans la citerne après le chargement des camions ?</p>
<p>(O)  Dans une ville, il y a 125 983 habitants. La population de cette ville a augmenté de 427 habitants cette année. Combien y avait-il d'habitants il y a un an ?</p>	<p>(P)  La population de Lille était de 542 041 habitants en 1900. Elle est aujourd'hui de 621 658 habitants. De combien a-t-elle augmenté en 100 ans ?</p>