

1 Ecris ces fractions en lettres.

a) $\frac{4}{5}$ b) $\frac{7}{3}$ c) $\frac{2}{6}$ d) $\frac{9}{9}$ e) $\frac{1}{4}$ f) $\frac{3}{7}$ g) $\frac{12}{15}$ h) $\frac{8}{2}$ i) $\frac{50}{100}$

Quatre cinquièmes

Neuf neuvièmes

Deux quinquantièmes

Sept tiers

Un quart

Huit dixième

Deux dixièmes

Trois septièmes

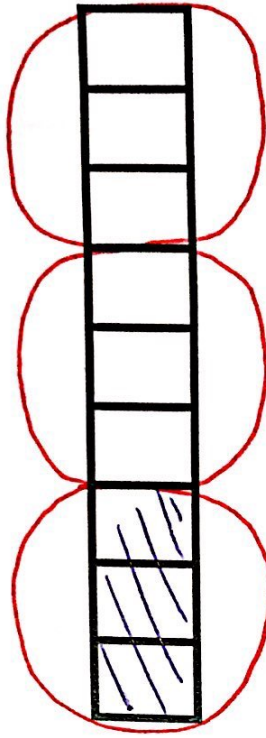
Cinquante centièmes

2 Colorie la partie correspondant à chaque fraction.

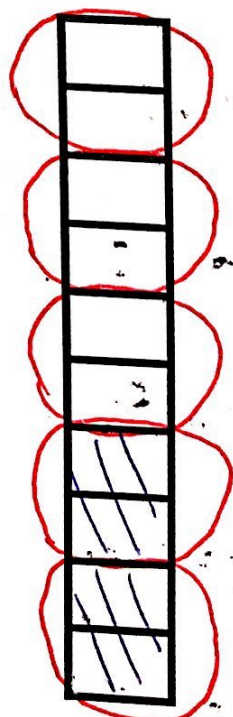
a) $\frac{1}{4}$



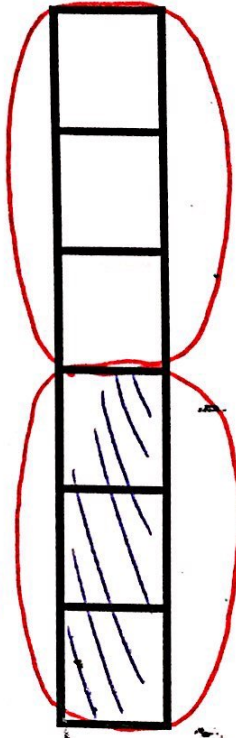
d) $\frac{1}{3}$



b) $\frac{2}{5}$



e) $\frac{1}{2}$



c) $\frac{6}{10}$



f) $\frac{7}{7}$

