

Séquence 9 – Séance 3

1 — Résous le problème.

Fatou achète une télévision et une lampe.
Combien doit-elle payer ?



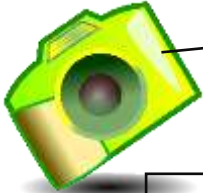
569 €

241€



Je cherche

2 — Calcule le prix de chaque appareil photo.
Entoure celui qui est le moins cher.



.....€

100 €

50 €

20 €

2€

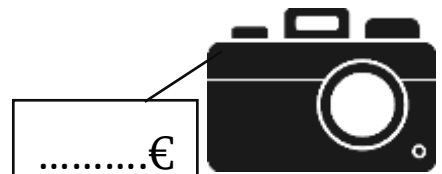
2€

10 €

10 €

2€

2€



.....€

100 €

50 €

50 €

3 — Indique la valeur des pièces et des billets pour obtenir la somme demandée.

154	<input type="text"/>	<input type="text"/>	<input type="text"/>	<input type="text"/>	<input type="text"/>	<input type="text"/>
202	<input type="text"/>	<input type="text"/>	<input type="text"/>	<input type="text"/>	<input type="text"/>	<input type="text"/>
207	<input type="text"/>	<input type="text"/>	<input type="text"/>	<input type="text"/>	<input type="text"/>	<input type="text"/>
104	<input type="text"/>	<input type="text"/>	<input type="text"/>	<input type="text"/>	<input type="text"/>	<input type="text"/>

4 — Ecris la somme que l'on doit me rendre.



14 €

Je donne

20 €

On me rend



27 €

Je donne

20 €

20 €

On me rend

Séquence 9 – Séance 3

1 — Résous le problème.

Fatou achète une télévision et une lampe.
Combien doit-elle payer ?



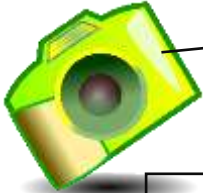
569 €

241€



Je cherche

2 — Calcule le prix de chaque appareil photo.
Entoure celui qui est le moins cher.



.....€

100 €

50 €

20 €

2€

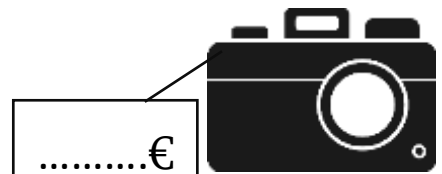
2€

10 €

10 €

2€

2€



.....€

100 €

50 €

50 €

3 — Indique la valeur des pièces et des billets pour obtenir la somme demandée.

154	<input type="text"/>	<input type="text"/>	<input type="text"/>	<input type="text"/>	<input type="text"/>	<input type="text"/>
202	<input type="text"/>	<input type="text"/>	<input type="text"/>	<input type="text"/>	<input type="text"/>	<input type="text"/>
207	<input type="text"/>	<input type="text"/>	<input type="text"/>	<input type="text"/>	<input type="text"/>	<input type="text"/>
104	<input type="text"/>	<input type="text"/>	<input type="text"/>	<input type="text"/>	<input type="text"/>	<input type="text"/>

4 — Ecris la somme que l'on doit me rendre.



14 €

Je donne

20 €

On me rend



27 €

Je donne

20 €

20 €

On me rend