







Prénom :

Date :

 GÉOMÉTRIE	<h1 style="margin: 0;">GÉOMÉTRIE</h1> <p style="margin: 0;">Les quadrilatères (02)</p>
---	--

- Les figures géométriques à 4 côtés et 4 sommets : les quadrilatères

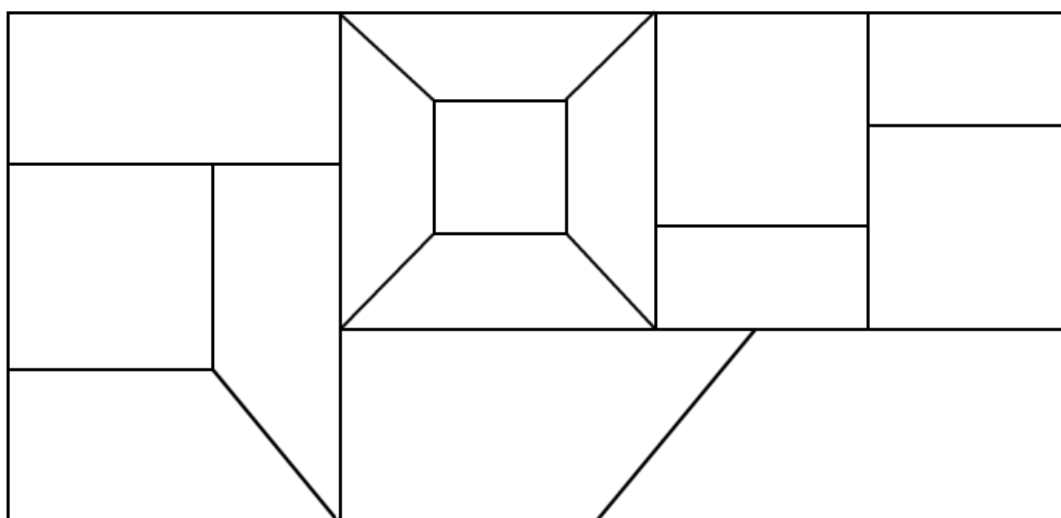
1./ Complète :

	: un		: un
	: un		: un
	: un		: un

2./ Complète :

Noms de la figure	Particularités
Le carré
Le rectangle
Le losange
Le parallélogramme
Le trapèze

3./ Combien de quadrilatères composent cette figure ?



Carré	Rectangle	Trapèze quelconque	Trapèze rectangle
.....