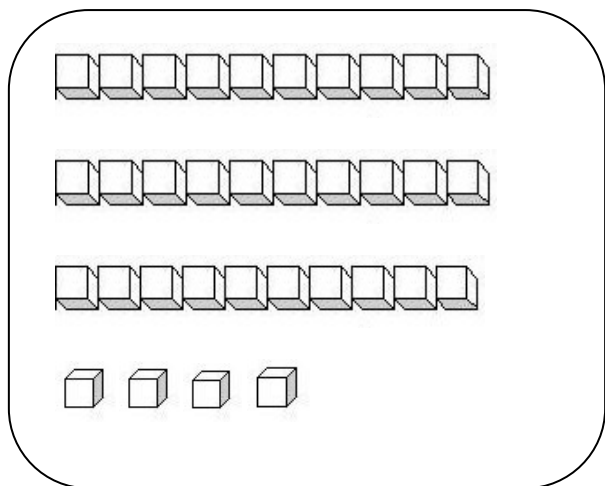
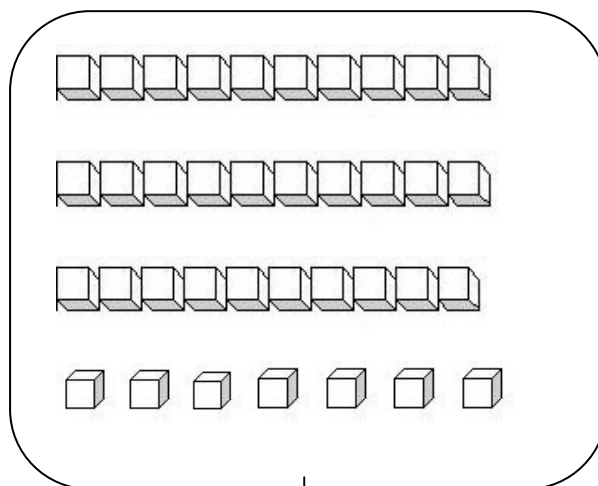


La famille des 30

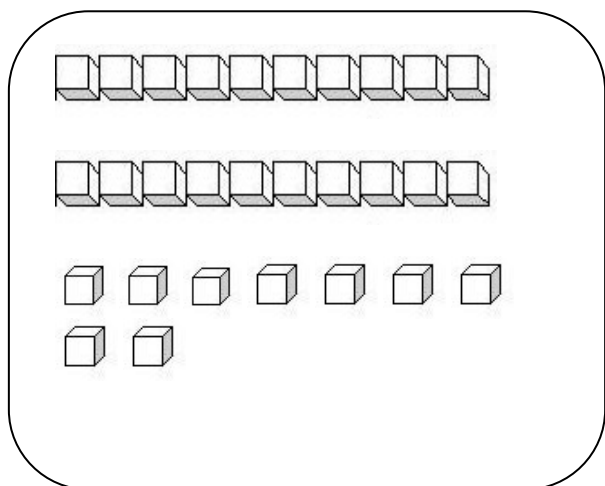
1. Ecris le nombre représenté.



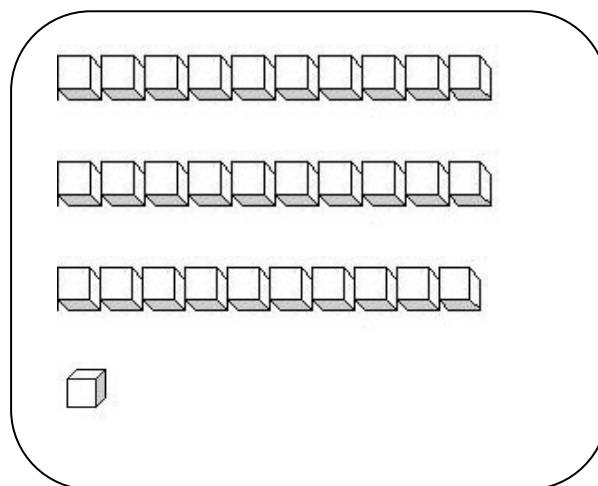
d	u



d	u



d	u



d	u

2. Ecris.

30

rente

Date :

Prénom :

La famille des 30

1. Dictée de nombres.

--	--	--	--	--	--	--	--	--	--

2. Complète avec < ; > ; = .

$30 \dots 13$

$27 \dots 37$

$16 \dots 36$

$20 \dots 32$

$17 \dots 35$

$31 \dots 13$

$23 \dots 32$

$39 \dots 29$

$38 \dots 18$

3. Complète le tableau.

Nombre précédent	Nombre	Nombre suivant
	33	
	35	
	30	
	38	
	36	

4. Range du plus petit au plus grand.

30 25 12 31 8 15 36 27 39 22

--	--	--	--	--	--	--	--	--	--	--

5. Complète les bandes numériques.

28	30	33
----	-------	----	-------	-------	----	-------	-------

32	34	37
----	-------	----	-------	-------	----	-------	-------

Date :

Prénom :

La famille des 30

1. Ecris le nombre en chiffres.

trente :

trente-quatre :

trente-huit :

trente et un :

trente-six :

trente-neuf :

2. Ecris en lettres.

33 :

37 :

35 :

32 :

31 :

3. Complète les bandes numériques.

26	27	31
----	----	-------	-------	-------	----	-------	-------

39	38	36
----	----	-------	----	-------	-------	-------	-------

34	33	30
----	----	-------	-------	----	-------	-------	-------

4. Calcule :

$30 + 5 = \dots\dots\dots$

$10 + 10 + 10 = \dots\dots\dots$

$31 + 4 = \dots\dots\dots$

$30 + 3 = \dots\dots\dots$

$10 + 10 + 10 + 2 = \dots\dots\dots$

$33 + 3 = \dots\dots\dots$

$30 + 7 = \dots\dots\dots$

$10 + 10 + 10 + 9 = \dots\dots\dots$

$35 + 2 = \dots\dots\dots$

Date :

Prénom :